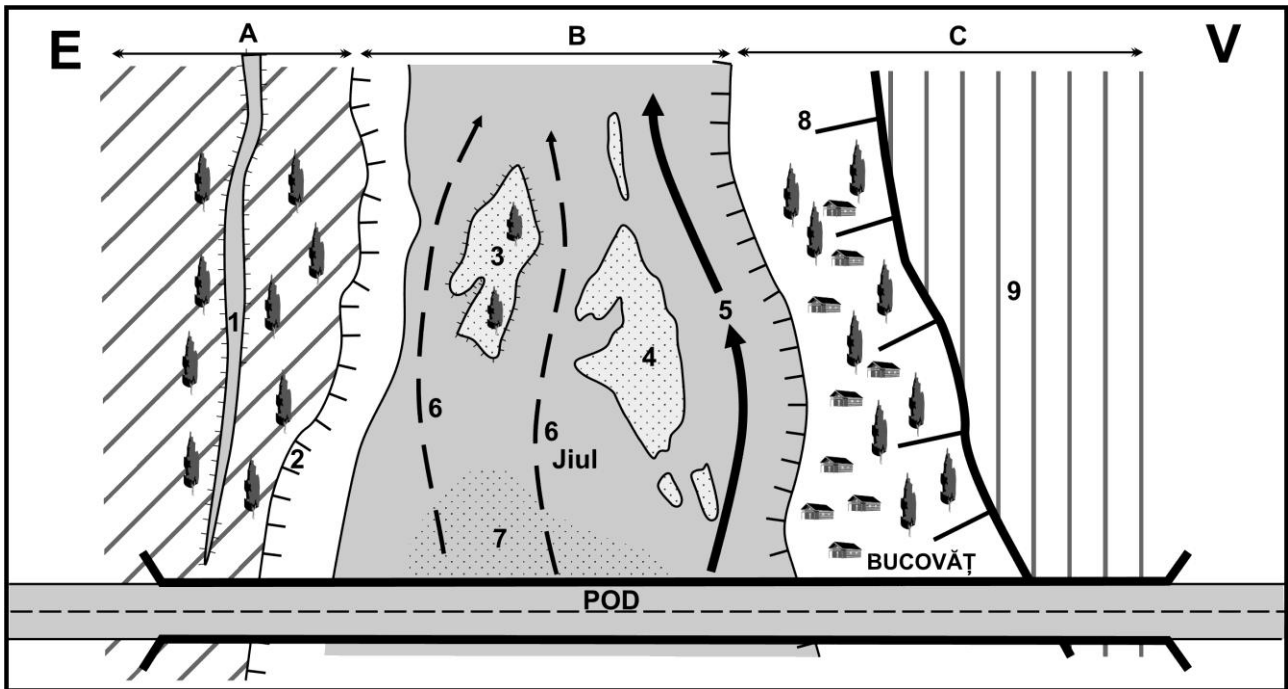


CONCURSUL ȘCOLAR DE GEOGRAFIE,
ETAPA NAȚIONALĂ, 1 – 7 APRILIE 2012, CRAIOVA
CLASA a IX-a

PROBA PRACTICĂ SCRISĂ

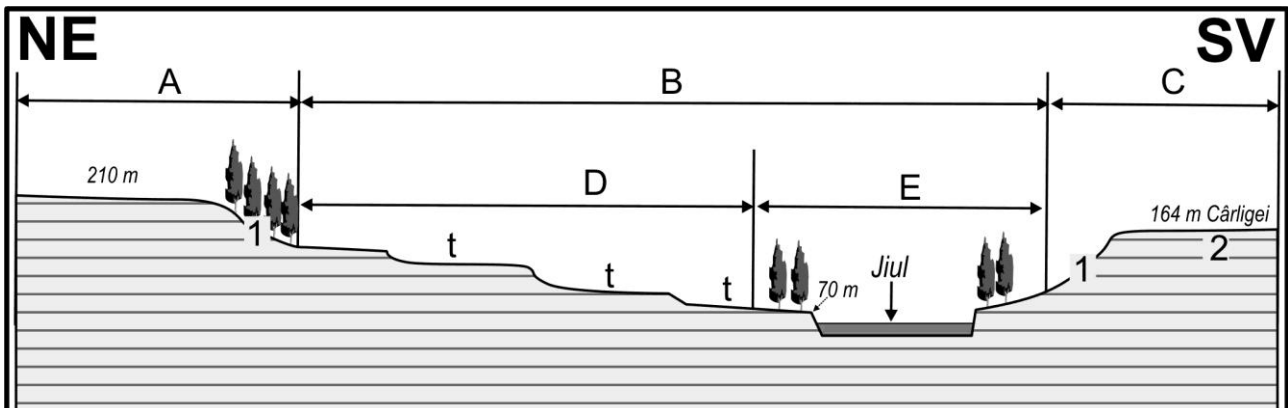
- Toate subiectele sunt obligatorii. Se acordă 10 puncte din oficiu.
- Timpul efectiv de lucru este de 1 oră.

I. Având în vedere desenul de mai jos, scrieți pe foaia de concurs treptele (A, B și C) și formele de relief (1 – 9) observate la Bucovăț, în aval de pod.



20 puncte

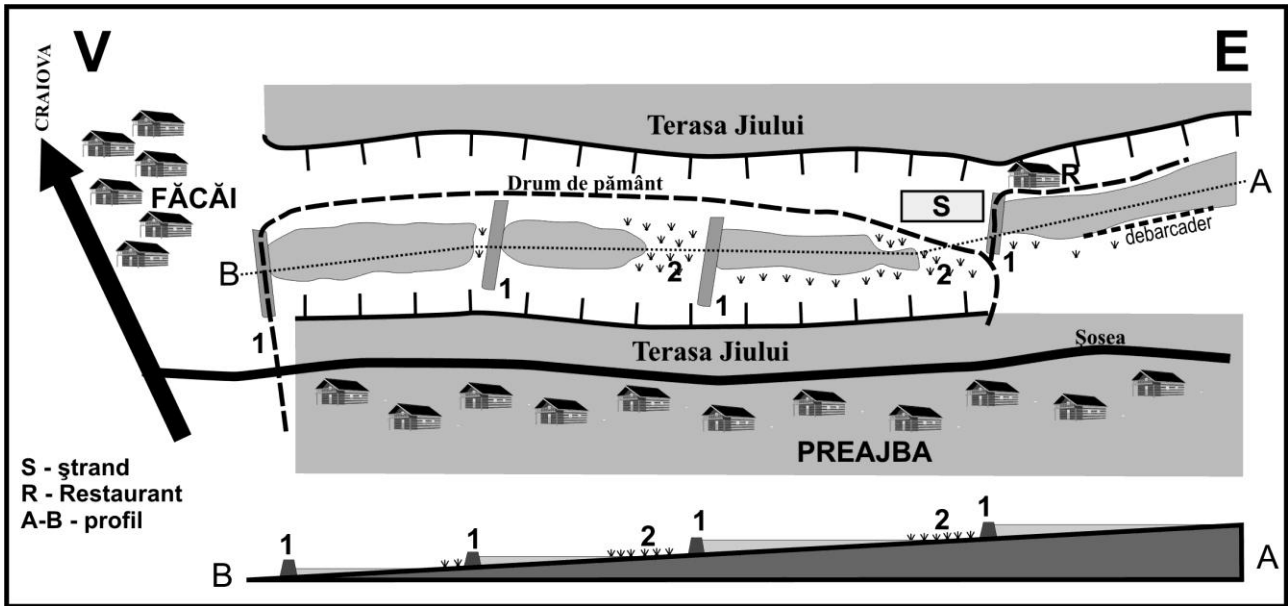
II. Precizați unitățile geografice și formele de relief principale în profilul (NE-SV) în punctul de observație de la Cârligei. Specificați tipul de vale după forma profilului.



20 puncte

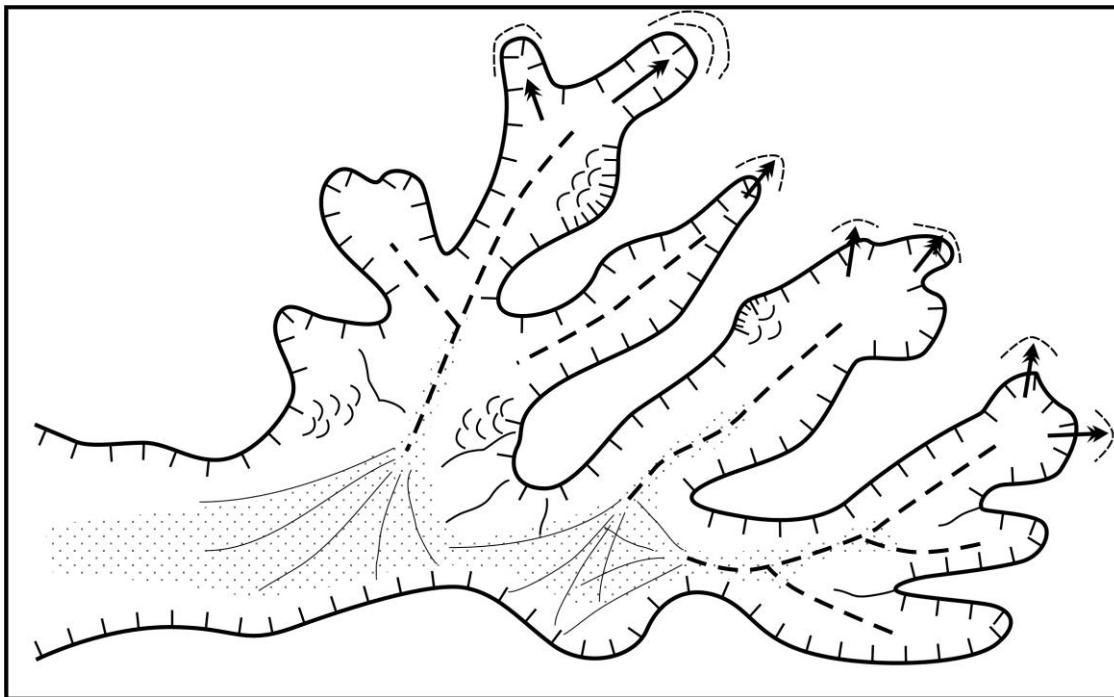
III. Desenul de mai jos reprezintă sectorul amenajat al văii Preajba, în care s-au efectuat observații geografice.

1. Precizați pentru punctul de observație: localizarea, tipul de amenajări, procesele actuale și de degradare vizibile.
2. Scrieți ce reprezintă cifrele 1 și 2 de pe desen.



20 puncte

IV. Având în vedere desenul de mai jos, precizați procesele geomorfologice din bazinul superior al văii Breasta.



10 puncte

V. Menționați caracteristicile spațiului geografic aflat la vest de Hotelul Flormang (punct de observație).

20 puncte